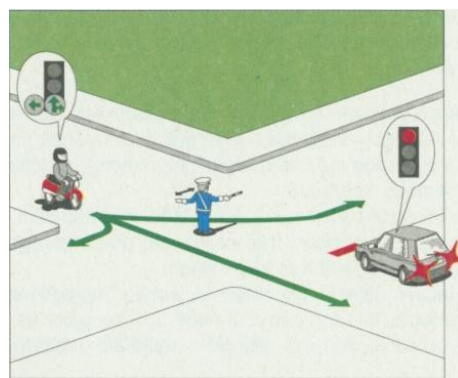


## Megoldások.

### 1.számú tesztlap

1. Melyik felszerelés kötelező a biztonságos kerékpározáshoz? (Több jó válasz is lehet!)
  - a. baseballsapka
  - b. helyesen beállított bukósisak
  - c. lámpák és macskaszem
  - d. láthatósági mellény
  - e. többfokozatú sebességváltó
2. Van-e különbség a kerékpáros alkalmassága tekintetében a főútvonalon, illetve a mellékutakon történő kerékpározás során?
  - a. igen
  - b. nincs
3. Az alábbiak közül melyek a KRESZ által elírt kötelező kerékpártartozékok? /Több válasz is megjelölhető./
  - a. Fehér színű első lámpa.
  - b. A pedálon és a küllők között borostyán sárga színű prizmák.
  - c. Vörös színű hátsó lámpa.
  - d. Vörös színű hátsó prizma.
  - e. Két, egymástól független fék.
  - f. Csengő.
  - g. Fényvisszaverő ruházat (lakott területen kívül az úttesten éjszaka vagy rossz látási viszonyok között).
  - h. Visszapillantó tükör.
4. Ebben a szituációban melyik járművel szemben állva irányítja a rendőr a forgalmat?
  - a. a motorkeréppárral
  - b. a személygépkocsival
  - c. egyikkel sem



5. A járműforgalom számára kihelyezett jelzőlámpa jelzése vonatkozik-e a kerékpárosokra?
  - a. igen, minden esetben
  - b. csak akkor, ha nincs külön kerékpáros jelzőkészülék
  - c. a kerékpárosokra ez a jelzőkészülék sohasem vonatkozik
6. melyik jármű hajthat be az e táblával jelzett útvonalra?
  - a. csak a kerékpár
  - b. a kerékpár és a segédmotoros kerékpár
  - c. a megkülönböztető jelzéseit használó jármű is




7. Figyelembe kell vennie a kerékpárosnak az alábbi jelzőtáblát?



- a. igen, minden esetben
- b. csak lakott területen kívül, ha bukósisakot visel
- c. csak kerékpárúton

8. Az alábbi jelzőtáblák közül melyik jelzi a „Nyitott kerékpársáv”-ot?



- a. az 1. számú
- b. a 2.számú
- c. a 3. számú
- d. a 4.számú
- e. mindegyik
- f. egyik sem

9. Ráhajthat-e kerékpárjával az alábbi útburkolati jellel ellátott úttestre?



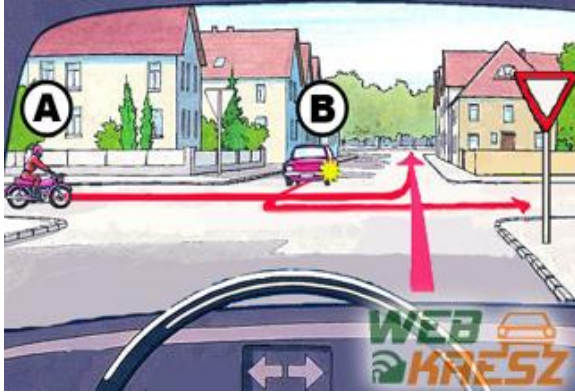
- a. igen, csak megállni és várakozni tilos az ilyen jellel ellátott úttesten
- b. nem, nem is érinthetem
- c. igen, de csak balesetveszély esetén, baleset elhárítása céljából

10. Hegyeshalom településen milyen tapasztalatai vannak a közlekedési szabályok betartása és az udvarias magatartás terén?

- a. nincs negatív tapasztalatom, a község útjain előzékeny és szabálytisztelő magatartást tapasztalok
- b. sok a szabálysértés és az udvariatlan, agresszív vezető
- c. nem látok eltérést a többi településsel történő összehasonlításban, közepes osztályzatot adnék a szabálykövető és a megértő, segítő magatartás jellemzéseként

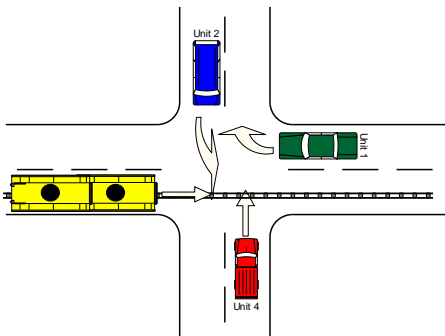
## 2.számú tesztlap

1. az ábrán látható képen mi az áthaladás helyes sorrendje?



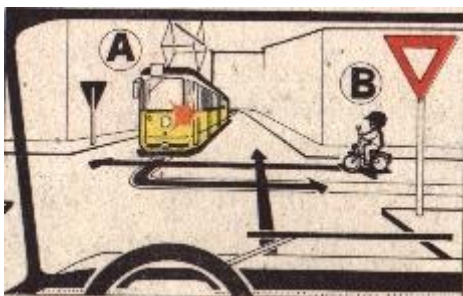
- a kormánykeréssel ábrázolt gépkocsi majd, A végül B
- A, Korm., végül B
- A, B, majd Korm. keréssel ábrázolt

2. Az áthaladás helyes sorrendje:




- zöld, piros, kék, villamos
- villamos, kék, zöld, piros
- villamos együtt a zölddel, piros, kék
- zöld, piros, villamos, kék

3. Az áthaladás helyes sorrendje:



- A, B, Korm kerélek ábrázolt gk.
- B, Korm., A jelű villamos
- Korm., B, A
- B, A, Korm. kerékkal ábr.

3. Az áthaladás helyes sorrendje:



- Villamos, Busz, C, Korm.
- C, Busz, Villamos, Korm.
- C, Villamos, Busz, Korm.

5. Melyik a leghosszabb?

- a fékút
- a reakció idő alatt megtett út
- a féktávolság

6. Meg szabad-e fordulni a vasúti átjáróban, ha a biztosító berendezések egyike sem jelez tilos áthaladást?

- igen
- nem

7. Lakott területen belül legfeljebb milyen sebességgel haladhat kerékpárjával kerékpárúton?


- 20 km/óra
- 30 km/óra
- 40 km/óra

8. Átkelhet- hídon a gyalogos az úttesten éjjel forgalommentes időszakban?

- igen
- nem

9. Milyen sebességgel haladhat kerékpárjával lakott területen kívül az alábbi jelzőtábla után, a jelölt szakaszon?

- 20 km/óra
- 30 km/óra
- 40 km/óra



10. ha a vasúti átjáró előtt STOP táblát helyeztek el, hol kell megállni a vasúti átjáróra történő ráhajtás előtt?

- a jelzőtáblával egyvonalban, mindig
- úgy, hogy jól belássam mindkét irányból a vasúti pályát

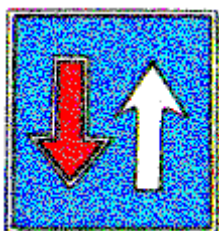
### Teszt 3

1. Figyelembe kell-e vennie közlekedése során a kerékpárosnak az alábbi jelzőtáblát?




- igen, de csak akkor, ha másik kerékpárt akar előzni.
- igen, még akkor is, ha haladó kézikocsi mellett akar gyorsabban elhaladni.
- nem, a kerékpárosra ez a tábla nem vonatkozik

2. Mi az alábbi jelzőtábla jelentése?



- egyirányú utca
- a szemből érkező jármű elsőbbségét
- elsőbbséget a szemből érkező járművel szemben.

3. Előzés-e a képen látható szituáció, lakott területen belül egyirányú utcában, ha az úttest szélessége 6 méter?

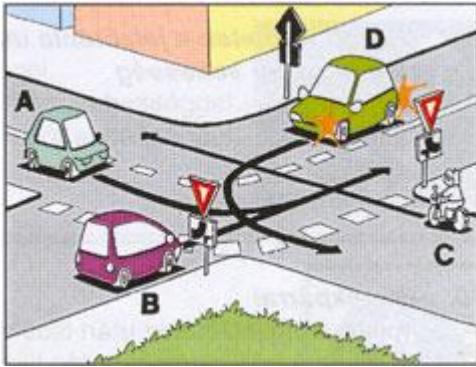


- nem, mert párhuzamos közlekedésre alkalmas az úttest
- igen,
- igen, mert nincs felfestve a sávokat elválasztó terelővonal

4. Álló járművet kikerülő kerékpárost szabad-e előzni?

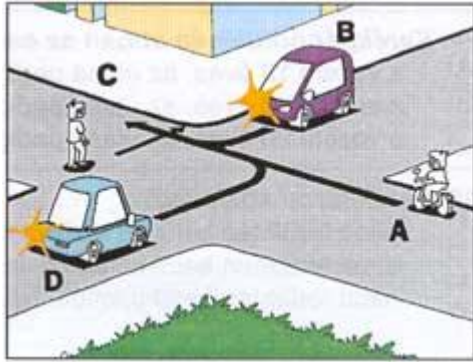
- nem, mert ez harmadikként történő előzésnek minősül
- igen, mert ez nem harmadikként történő előzési szituációnak minősül
- nem

5. Az alábbi szituációban hányadikként haladhat el a kerékpáros?



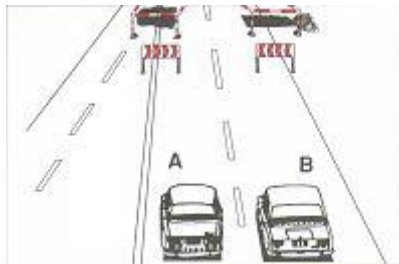
- elsőként
- másodikként
- harmadikként
- negyedikként

6. Kivel szemben van a gyalogosnak elsőbbsége?



- egyikkel szemben sem
- a személygépkocsikkal
- a kerékpárral

7. Melyik jármű haladhat el elsőként az alábbi forgalmi szituációban?



- az A jelű
- a B jelű
- kölcsönös megegyezés szükséges a továbbhaladást illetően

8. Szabad-e kerékpársávból útkereszteződésben közvetlenül balra kanyarodni?
- igen
  - nem
9. Szabad-e 12 éves gyermeknek kerékpározni főútvonal mellett a járdán, ha az úttesten elhelyezték a „Kerékpárral behajtani tilos” jelzőtáblát?
- igen
  - nem
10. Kell-e a kerékpárosnak lakott területen belül este és korlátozott látási viszonyok között fényvisszaverő mellényt használnia?
- igen
  - nem